



امتحانات أبناؤنا في الخارج

ملف تقييم الأداء

رياض أطفال  
المستوى الثاني  
**Kg2**

باللغة الفرنسية

الدور

**الثاني**



**2026**

اسم الطالب: ..... رقم الجلوس: .....

سفارة جمهورية مصر العربية في دولة: .....



غير مصرح  
بالكتابة فيها



# إرشادات عامة

- يتم تحميل ملف التقييم للطالب باللغة الفرنسية للطلاب المتقدمين على ( النظام لغات فرنسي) من خلال المنصة الالكترونية لأبنائنا في الخارج بوزارة التربية والتعليم :


<http://saboard.emis.gov.eg>

- يتم طباعة الملف ويقوم الطالب بالإجابة عن الأنشطة الموجودة.
- يتم رفع الملف بعد الانتهاء من الإجابة عليه على المنصة الالكترونية لأبنائنا في الخارج.
- يتم تحميل الملف ورفعها بعد استكمالها بداية من وضعها على المنصة ولمدة أسبوعين.
- لا يتم ارسال أية ملفات تقييم ورقية ، ويتم التعامل من خلال المنصة الالكترونية فقط
- يتم تحميل الملف ورفعها من خارج جمهورية مصر العربية فقط.

## النشاط الأول: لون الدائرة التي بها صوت الحرف المناسب



## النشاط الثاني: ضع دائرة حول السفينة ثم ارسمها




النشاط الثالث: لاحظ شكل الحرف في الكلمة ثم ارسم دائرة حول الشكل المناسب للكلمة



النشاط الرابع: اقرأ الكلمة، ثم حللها إلى حروف



النشاط الخامس: ضع علامة ( √ ) عند السلوك الذي تفعله قبل تناول الطعام



1- Colorie ces images. Eid Al Fitr



2-Entoure ce qui coûte le moins cher. Quelle est la différence ?

9 LE



5 LE



\_\_\_\_\_ de moins

10 LE




8 LE




\_\_\_\_\_ de moins

6 LE



4 LE




\_\_\_\_\_ de moins

**3- : Écris ton nom dans le cercle « Moi ».**

**Écris Égypte dans le cercle « Pays »**

**4- Entoure les êtres vivants**




**5- Complète :**



**Cet outil est fait en.....**



**Cet outil est utilisé pou.....**

1- Complète

**2- Entoure le nombre 16 avec ses composants.**

$6 + 10$

$5 + 5$

$5 + 9$

16

$5 + 1$

$8 + 8$

$9 + 7$

**3- Entoure le premier crayon et mets le signe ( ✓ ) au 3ème crayon.**

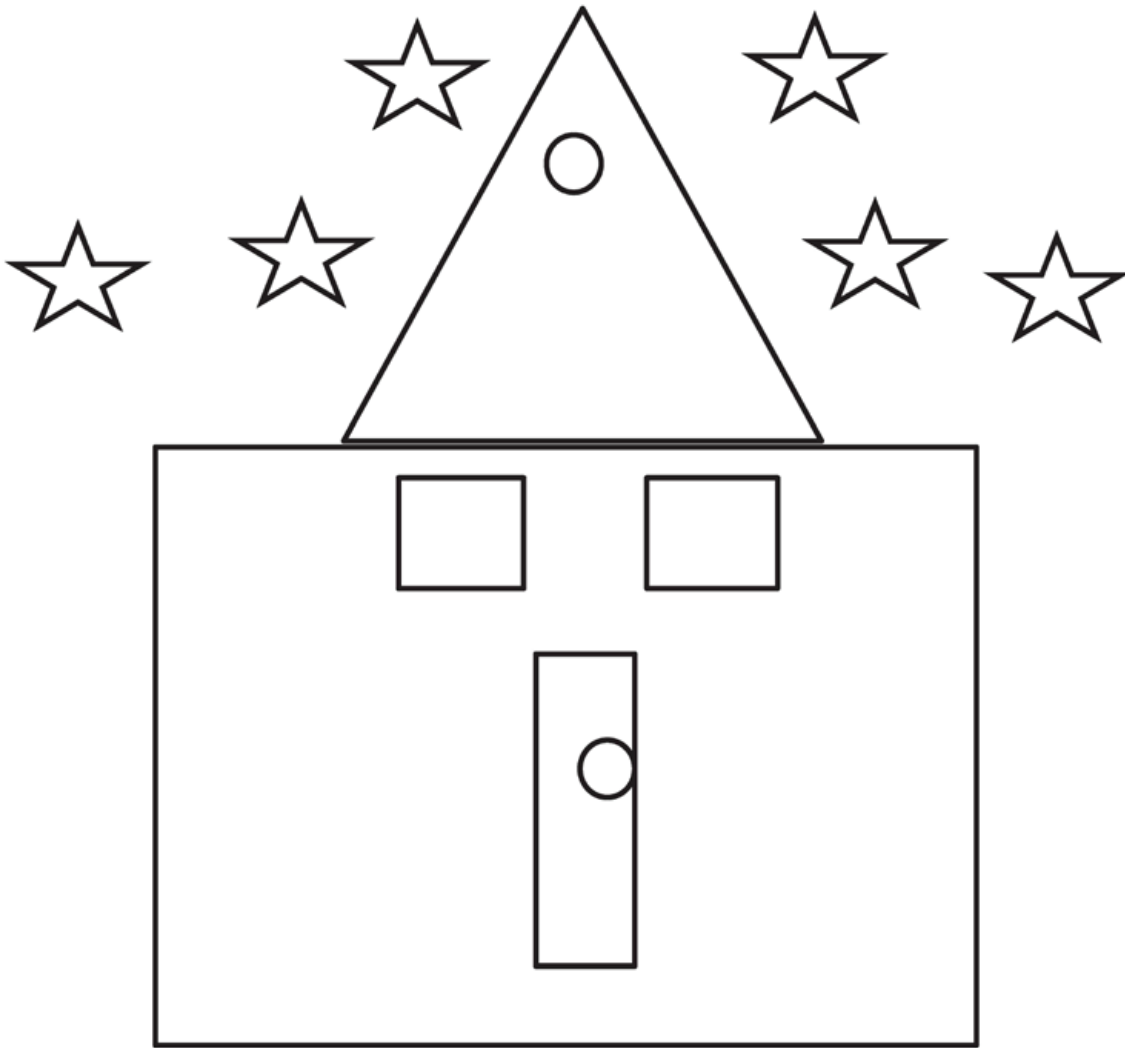


première

deuxième

troisième

quatrième


**4- Utilises ces figures pour colorier la maison puis répons à ses questions**

Combien d'étoiles .....

Combien de triangles .....

**5- Compte les figures puis relie-les avec le nombre convenable.**

10



12



15

ملف تقييم الأداء

رياض أطفال  
المستوى الثاني

باللغة الفرنسية

الدور الثاني 2026